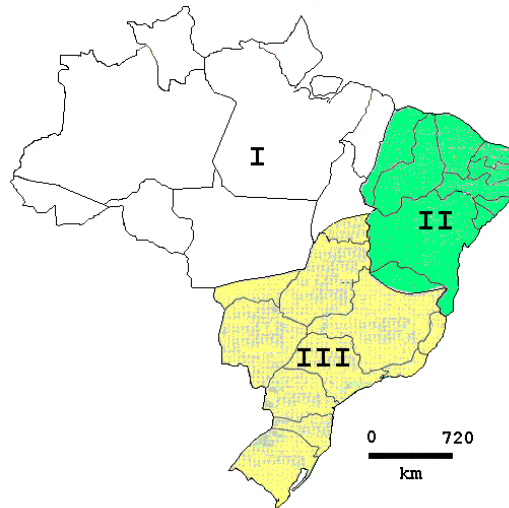
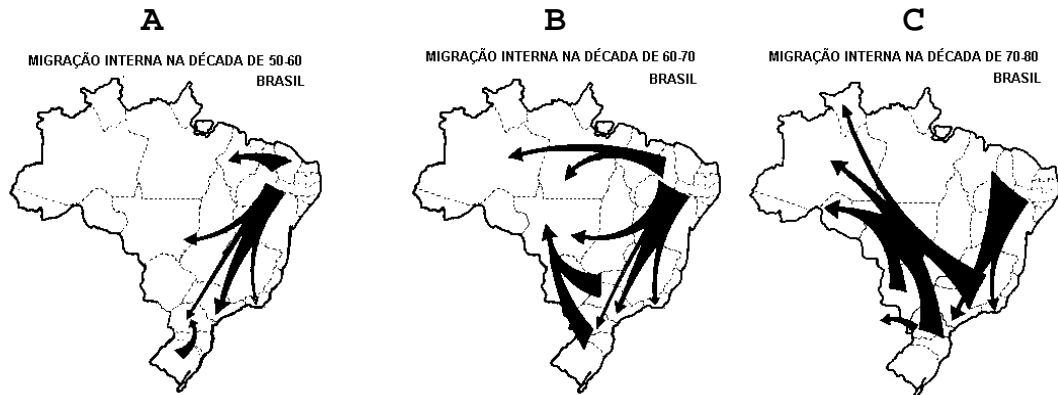


Q.01



- Identifique os complexos regionais I e III, apresentando duas de suas características físicas e duas econômicas.
- Explique por que a porção oriental do Maranhão e o norte de Minas Gerais fazem parte do complexo regional II.

Q.02



Fonte: Santos, 1994.

- Análise e justifique os fluxos migratórios representados nos mapas A, B e C.
- Explique a dinâmica atual dos fluxos migratórios.

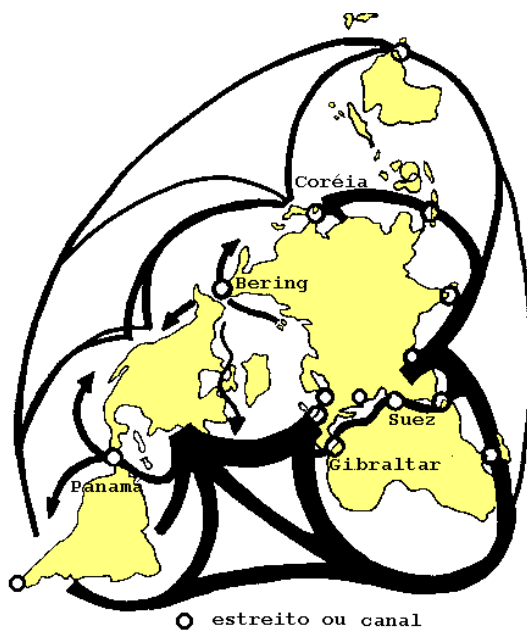
Q.03

Faça uma análise comparativa entre dois momentos do processo de industrialização brasileira – década de 50 e final da década de 90 – levando em consideração:

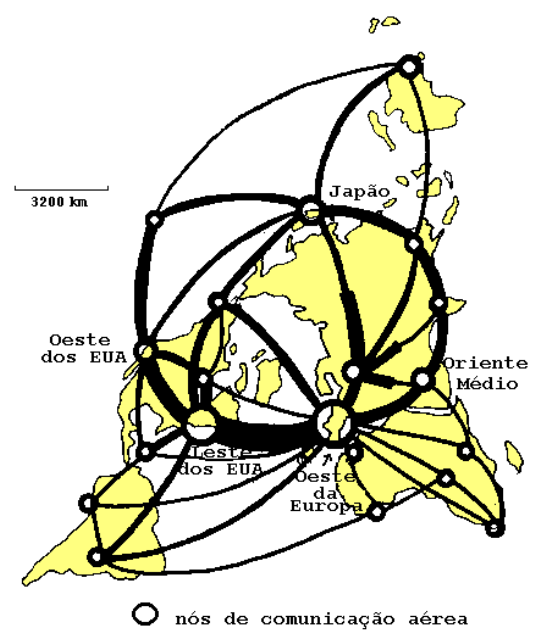
- o papel do Estado.
- o mercado consumidor.

Q.04

Grandes Rotas Marítimas



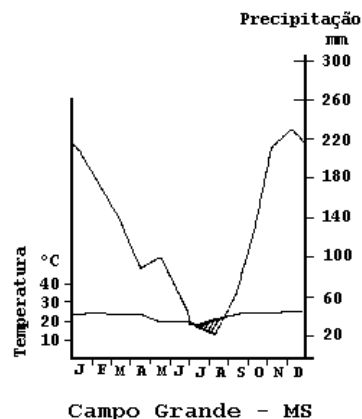
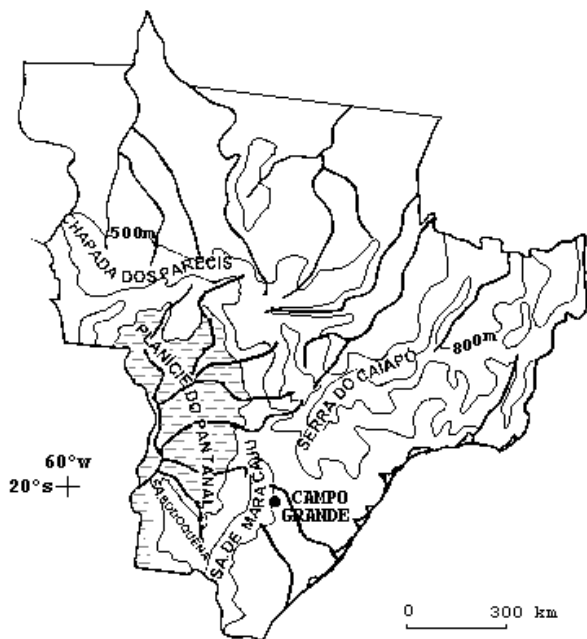
Grandes Rotas Aéreas



- Considerando os fluxos de circulação marítima e aérea, apresente duas semelhanças e duas diferenças entre eles.
- Atualmente, o desenvolvimento das telecomunicações e da informática tem ampliado a importância de fluxos imateriais. Dentre esses, analise os fluxos financeiros e compare seus principais pólos com os da rede aérea.

Q.05

REGIÃO CENTRO-OESTE

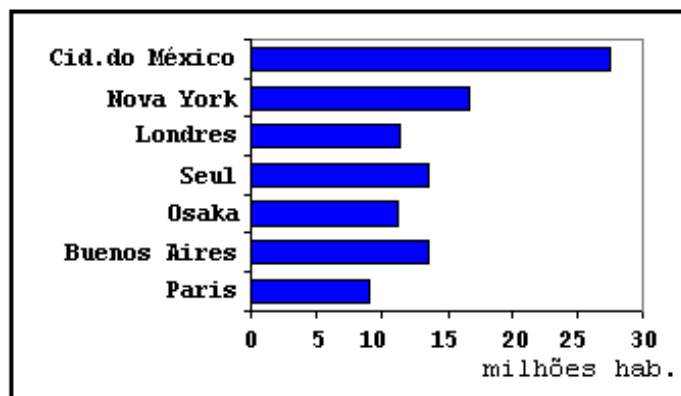


Fonte: Simielli, 1997.

- Apoiando-se no mapa e no gráfico acima, apresente as principais características do pantanal brasileiro quanto a: formas de relevo, formações vegetais e dinâmica hidrológica.
- Cite um tipo de interferência antrópica modificadora da dinâmica hidrológica natural de lagoas e rios pantaneiros. Explique.

Q.06

Grandes Aglomerações Urbanas no ano 2.000



Fonte: Adap. Sassen, 1998.

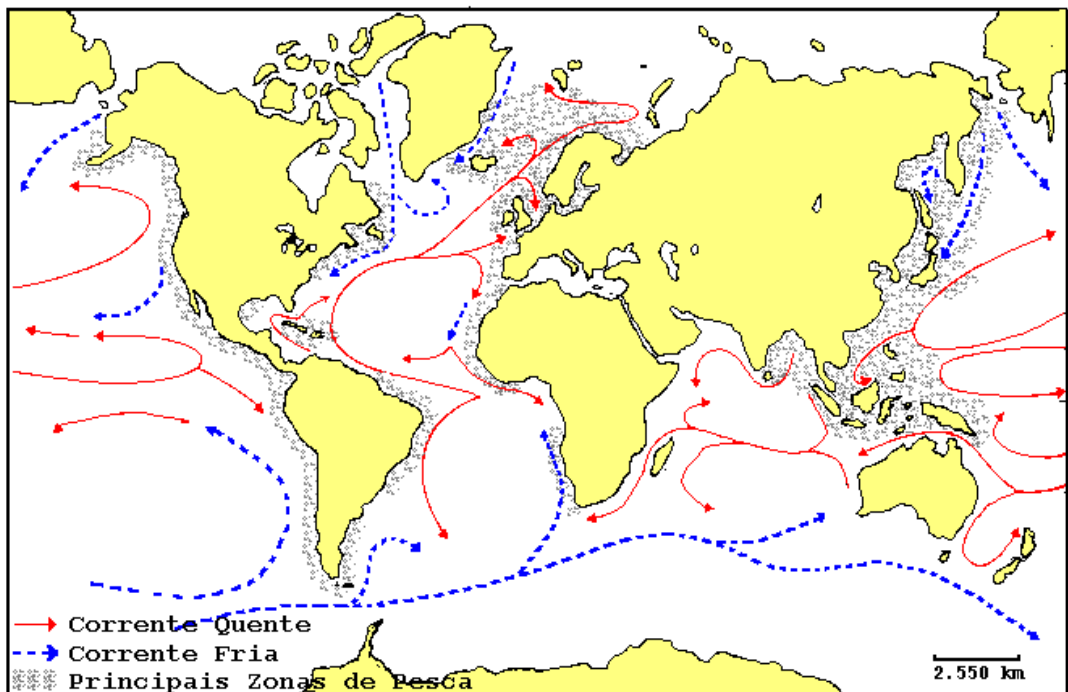
- Separe essas aglomerações em dois grupos: **A** (países desenvolvidos) e **B** (países de industrialização recente).
- Apresente uma característica da urbanização do grupo A e duas características da urbanização do grupo B, justificando-as.

Q.07

Na sociedade contemporânea, o lixo tornou-se um dos problemas cruciais. Esse problema era menor antigamente e exclusivo das cidades. Nas zonas rurais, as sobras faziam parte da forma de produzir e de viver.

- Relacione o problema do lixo com os processos de urbanização e industrialização.
- Caracterize o problema do lixo da Região Metropolitana de São Paulo (RMSP), quanto a: sistema de coleta, destinação e tratamento atualmente existentes.

Q.08



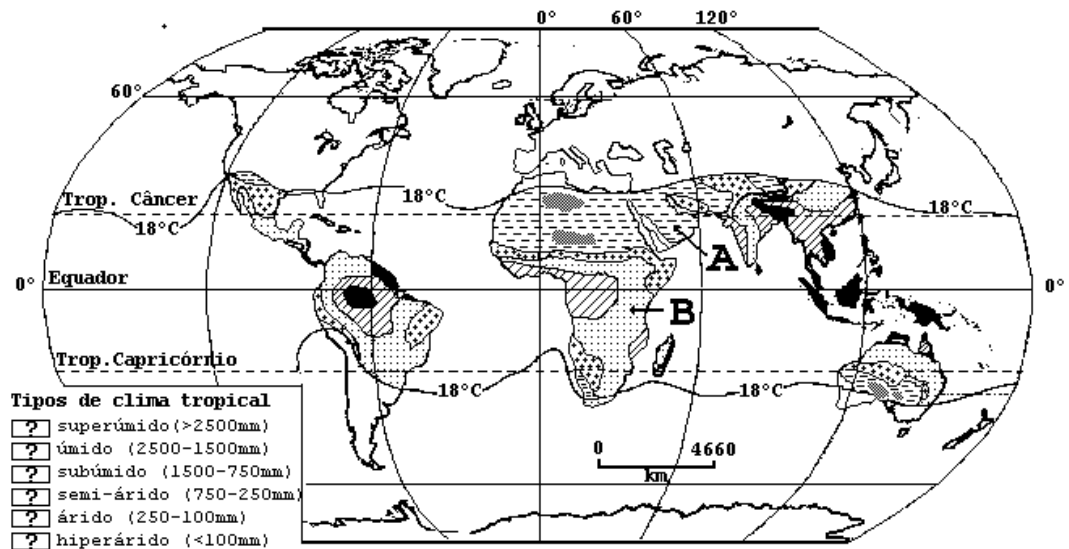
A maior ou menor piscosidade dos mares depende de alguns fatores, tais como: a trajetória das correntes marítimas, a distância da costa e a profundidade e temperatura dos mares.

- Cite três países em que a pesca é significativa do ponto de vista econômico.
- Explique a relação entre a corrente marítima do Golfo e a pesca na Europa setentrional.
- Compare o Japão e o Brasil no que se refere à atividade pesqueira.

Q.09

A designação do termo 'tropical' abrange grande diversidade de tipos climáticos, conforme se observa no mapa abaixo.

- Identifique as áreas **A** e **B** quanto à sua localização geográfica e seus respectivos tipos climáticos, utilizando a legenda parcial do mapa.
- Compare **A** e **B** quanto à amplitude térmica diária e o regime de chuvas.



Q.10

O SIVAM, Sistema de Vigilância da Amazônia, tem sido alvo de críticas por parte da sociedade civil brasileira, desde suas fases de licitação e projeto.

- Descreva esse sistema quanto aos objetivos e recursos técnicos envolvidos.
- Cite e comente duas das principais críticas que lhe têm sido atribuídas.